

LGS Denemesesi



Nurdağı
İlçe Millî Eğitim Müdürlüğü

Nurdağı İlçe Millî Eğitim Müdürlüğü Adına

Musa YILDIRIM
İlçe Millî Eğitim Müdürü

Kapsam

Nurdağı İlçe Millî Eğitim Müdürlüğü
Ölçme ve Değerlendirme Sınavları

Yayınlanma Tarihi

Haziran 2021

Dizgi ve Mizanpaj

Hüseyin SIHAT

Soru Yazarları

Türkçe	Ali Gümüş
Sosyal Bilgiler	Yasin Gökçe
Din Kültürü ve Ahlak Bilgisi	Yasin Yıldırım
İngilizce	Derya Çiçekdağ
Matematik	Muhammet Mert
Fen Bilimleri	Mustafa Navakuşu

Millî Eğitim Bakanlığı Nurdağı İlçe Millî Eğitim Müdürlüğü'nün yazılı izni olmadan bu yayının içeriğinin bir kısmı veya tamamı yeniden üretilemez, çoğaltılamaz, dağıtılamaz.

2021



Sözel Bölüm





TÜRKÇE

1. Ön koltukta oturan Yiğit, arkadaki Mustafa Can'a döndü ve "Adana'ya dönmekle iyi mi ediyoruz bilmiyorum." dedi. Bu arada şoföre de "200 m sonra sağdaki toprak yola döneceğiz." dedi. Az sonra döndükleri toprak yol sağanak yağmurun etkisiyle çamur deryasına dönmüşü. Bu sebeple tekerlekler dönüyor ama araba ilerlemiyordu.

1. Sapmak
2. Yönelmek
3. Geri gitmek
4. Kendi eksenini üzerinde hareket etmek
5. Benzemek, andırmak

Yukarıdaki parçada "dönmek" sözcüğünün çeşitli anlamlara gelen kullanımlarının altı çizilmiş ve bu kullanımların anlamları karışık olarak verilmiştir.

Buna göre kullanımlar ile anlamlar eşleştirilirse doğru sıralama aşağıdakilerden hangisi olur?

- A) 4-2-3-5-1 B) 2-3-1-5-4
C) 2-1-4-5-3 D) 4-3-2-5-1

2. Kız yurdunun kantininde bir masa etrafında oturan dört arkadaştan Işıl, her şeyden haberi olan ve bu haberleri yayan; Zülfiye Naz, çeşitli konularla ilgili sayısız kitap okumuş ve okuduklarını belleğinde tutan; Ezgi Su, bir işe yaramadığı gibi yapılan işe de engel olan; İtir ise aşırı dalgın ve etrafında olup bitenin farkında olmayan biridir.

Bu kişileri birer deyimle anlatacak olursak aşağıdaki eşleştirmelerden hangisi yanlış olur?

- A) Işıl > ayaklı gazete
B) Zülfiye Naz > ayaklı kütüphane
C) Ezgi Su > ayak sürüyen
D) İtir > ayakta uyuyan

3. Ayşenur ağır hareketlerle koltuğa oturdu. "Bu işten yine ben zararlı çıktım." dedi. Sinirli olduğu her halinden belliydi.

Altı çizili sözcüklerin zıt anlamlıları hangi seçenekte doğru verilmiştir?

- | <u>1</u> | <u>2</u> | <u>3</u> |
|----------|----------|----------|
| A) haff | yararlı | sakin |
| B) haff | kârlı | asabi |
| C) hızlı | yararlı | asabi |
| D) hızlı | kârlı | sakin |

4. Ülkemizin savunma sanayindeki önemli başarılarını ilgi ile takip ediyoruz.

Yukarıdaki cümle ile kanıtlanabilirlik açısından aynı olan cümle aşağıdakilerden hangisidir?

- A) Çocukluğumda büyük bir hevesle bayramı beklerdim.
B) Son bir yılda hava kirliliği azalmış.
C) Nesli tükenmek üzere olan hayvan sayısı arttı.
D) Ozon tabakasındaki deliğin yüzde üçü kapanmış.

5. (1) Mehmet işin içinden çıkamıyordu. (2) Babası okuması için zorluyordu. (3) Kendisi ise çiftçiliği daha çok seviyordu. (4) Babasının kendisini zorlanmasından duyduğu rahatsızlığı annesi ile konuşmaya karar verdi.

Numaralanmış cümlelerle ilgili verilen bilgilerden hangisi doğrudur?

- A) 1. cümlede kararsızlık anlamı vardır.
B) 2. cümle neden sonuç cümlesidir.
C) 3. cümle aşamalı durum bildirmektedir.
D) 4. cümlede Mehmet'in davranışı yakınmaya örnektir.



TÜRKÇE

6. İnsan sosyal bir varlıktır. Yaşadığı çevreyi etkiler ve çevreden etkilenir. Buradan yola çıkarak iyilik de kötülük de bulaşıcıdır, diyebiliriz. İşte tam da bu sebeple şahit olduğumuz bir haksızlık karşısında sessiz kalamayız. Çünkü yapılan haksızlık her ne kadar o anda bir kişiyi ilgilendiriyor gibi görünse de zamanla yayılarak bir gün mutlaka bize de uğrayacaktır. Emile Zola da bu konuda "Bir kişiye karşı yapılmış haksızlık bütün insanlığa karşı yapılmış haksızlık demektir." demiştir.

Bu paragrafın anlatımı ile ilgili aşağıdakilerden hangisi yanlıştır?

- A) Örnekleme yapılmıştır.
- B) Tanımlama yapılmıştır.
- C) Tanık göstermeden yararlanılmıştır.
- D) Karşılaştırma yapılmıştır.

7. Yer : Zeytinli Tepe
Zaman : kuşluk vakti
Kişiler : Saltuk Buğra ve Habib
Olay: kekik toplama
Anlatıcı : 3. kişili anlatım

Aşağıdaki metinlerden hangisi yukarıdaki hikaye unsurlarına uygun olarak yazılmıştır?

- A) Saltuk Buğra ve Habib öğle yemeğini yedikten sonra buluştular. Dereyi geçip Zeytinli Tepe'ye vardılar. Ortalık kekik kokusu ile kaplanmıştı. Taze kekikleri toplayıp poşetlerine doldurdular.
- B) Saltuk Buğra ve Habib kuşluk vaktinde yola çıktılar. Yarım saat içinde Zeytinli Tepe'ye ulaştılar. Her yerde kekik vardı. Poşetlerini çıkarıp kekik toplamaya başladılar.
- C) Habib ile kuşluk vakti buluşup yola koyulduk. Dereyi geçip Zeytinli Tepe'ye vardık. Gözümüzün gördüğü her yerde kekik vardı. Kısa sürede poşetlerimizi doldurup dönüş yoluna koyulduk.
- D) Saltuk Buğra ve Habib Zeytinli Tepe'ye vardıklarında kuşluk vaktiydi. Çalıkların arası nergis doluydu. Sarı beyaz renk cümbüşüne muhteşem kokular eşlik ediyordu. Birer demet toplayıp geri dönmek için yola çıktılar.

8. Aysima, Bengisu ve Fatma Buse Osmaniye'nin Düziçi ilçesine gününbirlik bir geziye gitmişlerdir. Bu kişilerden Fatma Buse, yaşadıklarını o günün akşamında defterine yazmıştır. Aysima, aradan bir yıl geçtikten sonra bu gezi sırasında şahit olduğu ilginç bir olayı hatırlamış ve kaleme almıştır. Bengisu ise Düziçi'nin tarihi ve doğal güzelliklerini anlattığı bir tanıtım yazısı yazmıştır.

Buna göre bu kişilerin yazdığı metin türleri aşağıdakilerin hangisinde doğru olarak verilmiştir?

<u>Aysima</u>	<u>Bengisu</u>	<u>Fatma Buse</u>
A) günlük	gezi yazısı	anı
B) anı	gezi yazısı	hikaye
C) anı	gezi yazısı	günlük
D) anı	eleştiri	günlük

9. Butik pastacılık yapan Cüveyriye Hanım'ın pasta fiyatları şu şekildedir:

4-6 kişilik	>	100 TL
8-10 kişilik	>	130 TL
12-15 kişilik	>	170 TL
18-20 kişilik	>	200 TL

Küçük figürler (çiçek, kelebek, yaprak vs.): Çeşit başı 5 TL (sayı değişken)

Büyük figürler (araba, hayvan, bebek vs.) : Tanesi 10 TL

Duru kardeşi Cemre'nin doğum günü için Cüveyriye Hanım'a pasta siparişi verecektir. Doğum gününe dört kişilik ailenin dışında üç akraba ve Cemre'nin beş arkadaşı katılacaktır. Duru, pastanın üzerinde bir bebek ve etrafında uçan kelebekler olmasını istemektedir.

Buna göre Duru'nun Cüveyriye Hanım'a ödemesi gereken tutar aşağıdakilerden hangisidir?

- A) 145 TL
- B) 170 TL
- C) 185 TL
- D) 190 TL



TÜRKÇE

10. 5 2 1 2 4
9 2 1 8 3
2 3 5 2 3
3 2 1 6 5
0 2 1 7 8

Serra İkbal ve Gülnaz kendi aralarında bir şifreleme oluşturmuş ve 0'dan 9'a kadar her rakam için bir harf belirlemişlerdir. Bu yöntemle "kavis, tavuk, savaş, havlu, aksak" sözcüklerini yukarıdaki gibi yazmışlardır.

Buna göre Serra İkbal ve Gülnaz'ın yöntemiyle "ŞAHİT" sözcüğünün yazımı aşağıdakilerden hangisidir?

- A) 42069 B) 52067
C) 42389 D) 56720

11. Aslan Oto Galeri sahibi Mehmet, galerisinin önüne soldan sağa doğru iki beyaz, iki siyah ve bir kırmızı arabayı dizmiştir. Arabalar 2016, 2017, 2018, 2019 ve 2020 modeldir. Diziliş ile ilgili bilinenler şunlardır: (Arabaların model yılı doğum yılı olarak kabul edilmiştir.)

- Aynı renkler yan yana konulmamıştır.
- Kırmızı arabanın sağında ve solunda aynı renk arabalar vardır.
- En genç araba kırmızı arabadır.
- 2020 model arabadan sonra 2018 model araba konulmuştur.
- Model yılına göre iki beyaz araba arasında bir siyah araba vardır.
- 2017 model araba beyaz renktedir.

Buna göre soldan dördüncü arabanın rengi ve model yılı aşağıdakilerden hangisidir?

- A) Siyah - 2016
B) Siyah - 2018
C) Beyaz - 2018
D) Beyaz - 2016

12. Orucu sadece belirli saatler arasında aç ve susuz kalmak zanneden Bedirhan, oruçlu olduğu günlerde barut gibidir. Dokunduğu yeri yakar. Oysa etrafındakilere kötü sözler söyleyen dilin, kötü ortamlara giden ayağın, kötü işler yapan elin ve kötülüğe bakan gözlerin bağlı olduğu bedenin aç veya tok olmasının hiçbir önemi yoktur.

Bu paragrafta aşağıdaki söz sanatlarının hangisine yer verilmemiştir?

- A) Abartma B) Tezat
C) Benzetme D) Kişileştirme

13. Ziya Gökalp bir şiirinde,

"Türklüğün vicdanı bir,
Dini bir, imanı bir,
Fakat hepsi ayrılır,
Olmazsa lisanı bir." der.

Buradan da anlayacağımız gibi bizi millet yapan, her şeyi bir arada tutan ve birbirine bağlayan şey dildir. Bu sebeple dilin korunması, geliştirilmesi ve gelecek nesillere aktarılması gerekir. Bu noktadan hareketle Türk milletinin evlatlarına Türkçenin önemini, değerlerini, zenginliğini ve güzelliklerini aktarma hedefi, beni bu seçimi yapmaya yönlendirmiştir.

Bu paragraf aşağıdaki sorulardan hangisine cevap olarak verilmiştir?

- A) Türkçe neden önemlidir?
B) Neden Türkçe öğretmenliğini seçtiniz?
C) Türkçe öğretmenlerinin görevleri nelerdir?
D) Türkçe öğretmenlerinin hedefi nedir?

TÜRKÇE

Oruç hem bedene hem de ruha hitap eden bir ibadettir. Sindirim sistemimiz başta olmak üzere bedeni dinlendiren oruç; diğer taraftan sabır, empati, kararlılık ve irade erdemlerini de ruhumuza işler. (1)Dinimiz, her ibadette olduğu gibi oruçta da bazı kolaylıklar sunmuştur. (2)Hasta olanlar veya uzun yolculuk yapanlar oruç tutmayabilir. Ancak Ramazan ayından sonra tutmadıkları gün sayısı kadar kaza etmeleri gerekir.(3)Oruç sadece mide ile tutulmaz. Özellikle elimize ve dilimize de hâkim olmamız gerekir. (4)Elimiz harama uzanmamalı, ayağımız harama gitmemeli, gözümüz haramı görmemeli, dilimiz de kötü sözlerden sakınmalıdır. Buradan anlıyoruz ki orucun toplumsal yaşama da katkısı vardır.

(14 ve 15. soruları metne göre cevaplayınız.)


14. Bu metinden aşağıdaki yargılardan hangisi çıkarılamaz?

- A)Oruçluken sindirim sistemimiz çalışmaz.
- B) Oruç çok yönlü bir ibadettir.
- C)Dinimiz oruç dışındaki ibadetlerde de kolaylıklar sunmuştur.
- D)Orucun toplumsal barışa ve huzura faydası vardır.

15. Metin üç paragrafa bölünmek istense üçüncü paragraf kaç numaralı cümleyle başlar?

- A) 1
- B) 2
- C) 3
- D) 4

16.



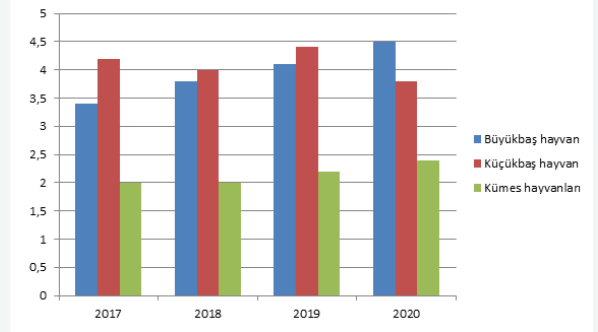
Kemal YILDIRIM

Öğretmen ne ise öğrenci odur.

Yukarıdaki özdeyişi kendisine ilke edinen öğretmenlerden hangisini yapması beklenemez?

- A) Söylediklerini yaparak tutarlılık göstermek
- B) Öğrencinin hatasını affedip merhamet göstermek
- C) Temiz ve düzgün giyinmek
- D) Öğrencinin hatasını görmezden gelmek

17. Aşağıdaki grafikte Nurdağı ilçesindeki hayvancılık faaliyetlerinin son dört yıla ait bilgileri verilmiştir. (1 birim=100 bin)



Buna göre aşağıdakilerden hangisi yanlıştır?

- A)2018'deki küçükbaş hayvan sayısı, bir önceki yılın kümes hayvanları sayısının iki katıdır.
- B) Dört yılın toplamında en fazla sayı küçükbaş hayvanlara aittir.
- C) Büyükbaş hayvan sayısı sürekli artmıştır.
- D)Kümes hayvanları sayısında sürekli bir artış gözlenmektedir.

18. Bugün Türkiye'de büyük bir gelişme vardır. Şehirlerin nüfusu ile beraber yapısı da büyümüş ve değişmiştir. Fakat maalesef bu yeni Türk şehirleri güzel değildir. Birbirine benzeyen apartman yığınlarından ibarettir. Bu şehirlerde, eski Türk şehirlerini yoğuran o muazzam manevi hava, güzellik ve kutsallık duygusundan zerre bile yoktur. Her şey son derece adi, çirkin, taklit ve ruhsuzdur. Yeni mimari eskiden kalma binlerce güzel eseri yok ettiği gibi arta kalanı da boğmuştur. Bugün yapılacak şey kalanların korunması, etraflarının açılması ve incelenmesidir. (Mehmet Kaplan)

Bu parçada asıl anlatılmak istenen düşünce aşağıdakilerden hangisidir?

- A) Şehirleşmeye önem vermeliyiz.
- B) Şehirlerimiz hızla gelişmekte ve değişmektedir.
- C) Tarihi eserlerimizi şehirleşmeye kurban vermemeliyiz.
- D) Tarihi eserler şehirleşmenin önünde bir engeldir.



TÜRKÇE

19. • Noktalı virgül, sıralı cümlelerin biri veya her ikisinde birden virgül kullanılmışsa bu cümlelerin arasına konur.

- Noktalı virgül, kendi içinde virgülle ayrılan tür ve takımları ayırmak için kullanılır.

Buna göre aşağıdaki cümlelerin hangisinde noktalı virgölün işlevi diğerlerinden farklıdır?

A) Edebiyat dersinde İslamiyet'ten önceki Türk destanlarından Oğuz Kağan, Bozkurt, Göç destanlarını; İslamiyet'ten sonraki Türk destanlarından da Manas, Saltuk Buğra Han ve Köroğlu destanlarını işleyeceğiz.

B) Ayşe gökleri, yerleri ve tüm kainatı yaratan Allah'a elini açtı; beni, annemi, babamı, kardeşlerimi, akrabalarımı ve bütün Müslümanları koru, diye dua etti.

C) Durgun akan suyun yüzeyinden yapraklar, böcekler, küçük çırpılar geçiyordu; Fatma Gül ise bir ağaç gölgesine oturmuş, dalgın dalgın suya bakıyordu.

D) Halk Ozanları Konseri'ne çocuklar, yaşlılar, gençler ve yetişkinler gelmişti; Kevser ise en sevdiği bölüm olan "atışma" bölümünü bekliyordu.

20. • Büyük harflerle yapılan kısaltmalara gelen ekler son harfin alfabedeki okunuşuna göre getirilir. (TDK'nin vs.)

- Büyük harfle yapılan ancak bir kelime gibi okunabilen kısaltmalara getirilen ekler kelimenin okunuşuna göre getirilir. (TÜBİTAK'tan)
- Küçük harf bulunan kısaltmalara gelen ekler kısaltmanın açılımına göre getirilir. (kg'dan)

Bu kurallara göre aşağıdaki cümlelerin hangisinde kısaltmalara getirilen eklerle ilgili yazım yanlışı yapılmıştır?

A) Bu elbise için 3 m'den fazla kumaş gerek.

B) Yaren Nur da Sabır Apt.de oturuyormuş.

C) Seçim sonrası tüm gözler YSK'nin açıklamasına çevrildi.

D) Hizmet içi eğitim başvuru işlemleri MEBBİS'ten yapılacaktı.

"Türkçe testi bitti. T.C. İnkılap Tarihi ve Atatürkçülük testine geçiniz."



T.C. İnkılap Tarihi ve Atatürkçülük

21. I.Dünya Savaşı'nın başlamasında iki önemli faktör bulunmaktadır. Bunlar Sanayi İnkılabı sonrası artan hammadde ve pazar rekabeti ve Fransız İhtilali ile birlikte ortaya çıkan milliyetçilik düşüncesidir. Bu iki gelişme özellikle Avrupa ülkeleri arasındaki gerginlikleri arttırarak savaşın başlamasında etkili olmuştur.

Verilen bilgilerde I.Dünya Savaşı'nın temel sebeplerinden hangilerine vurgu yapılmıştır?

- A) Siyasi-Kültürel B) Ekonomik-Siyasi
C) Ekonomik-Dini D) Siyasi-Askeri

22.

- Kuvay-i Milliye'yi etken ve milli iradeyi hâkim kılmak esastır
- Millî sınırlar içinde vatan bütündür, parçalanamaz
- Manda ve himaye kabul edilemez

Erzurum Kongresi kararlarından bazıları yukarıda verilmiştir. Alınan kararlar ve seçenekler eşleştirilirse hangi seçenek dışta kalır?

- A) Ülkenin bütünlüğü B) Ulusal egemenlik
C) Tam bağımsızlık D) Uluslar arası denklik

23.17 Şubat 1923'te ekonomik bağımsızlığı ve kalkınmayı sağlayarak milli bir ekonomi kurmak amacıyla İzmir'de Türkiye İktisat Kongresi toplanmıştır. Toplantıya tüm yurttan çiftçi, esnaf, tüccar, sanayici olmak üzere ekonominin her kolundan temsilciler katılmıştır. Kongredeki kararlara Misak-ı İktisadi denilmiştir.

Türkiye İktisat Kongresi ile ilgili bilgilere göre;

- I.Yabancı sermayeye önem verilmiştir.
II. Ekonomi bir bütün olarak değerlendirilmiştir.
III. Milli ekonominin temelleri atılmıştır.

yargularından hangilerine ulaşılabilir?

- A) Yalnız I B) I ve III
C) II ve III D) I, II ve III

24.Kütahya-Eskişehir Savaşı'nın kaybedilmesinden sonra ordunun ihtiyaçlarını karşılamak amacıyla çıkarılan Tekâlif-i Millîye Emirleri Türk Milleti'nin yapmış olduğu varlık yokluk mücadelesinde çok kıymetli bir yer tutar. Sakarya Savaşı öncesi uygulanan, Tekâlif-i Millîye Emirleri ile halkımız tüm imkânsızlıklara rağmen ordumuzun ihtiyaçlarını en kısa sürede gidererek Yunan kuvvetlerini geri püskürtülecek güce kavuşturmuştur.



Verilen bilgilere göre;

- I.Millî birlik ve beraberlik örneği sergilenmiştir.
II. Halkımız büyük özveri göstermiştir.
III. Yunan işgali sona ermiştir.

Çıkarımlarından hangilerine ulaşılabilir?

- A) I-II B) II-III C) I-III D) I- II-III

25.1933'te açılan İstanbul Üniversitesi bünyesindeki tıp fakültesinin eğitim programlarının geliştirilmesine önem verildi. Kolera, veba, tifo, çiçek, kızamık, menenjit, verem ve sıtma gibi birçok bulaşıcı hastalıklara karşı sistemli bir mücadele başlatılarak bu hastalıkların sağlık kuruluşlarına bildirilmeleri zorunluluğu getirildi. Bu hastalıkların tedavisinin parasız yapılabilmesi için tedbirler alındı.

Verilen bilgilere göre hangisine ulaşılabilir?

- A) Dış ülkelere kaynaklı salgın hastalıklar vardır.
B) Vatandaşlardan yüksek tedavi ücreti alınmıştır.
C) Devlet vatandaşların sağlığını korumaya çalışmıştır.
D) Sağlık alanında tüm sorunlar çözülmüştür.



T.C. İnkılap Tarihi ve Atatürkçülük

26. İtalya'nın Orta Doğu'ya yönelik saldırgan politika izlemesi, Türkiye ve bölgedeki diğer devletleri harekete geçirdi. Ortadoğu'da barışın tehlikeye düşeceğini gören Türkiye, İran, Irak ve Afganistan 8 Temmuz 1937'de Tahran'da Sadabat Paktı'nı imzaladılar. Sadabat Paktı'na imza atan devletler, ortak sınırların dokunulmazlığına saygılı olmayı ve birbirlerine saldırmamayı garanti etmişlerdir. Türkiye böylece doğu sınırını güvence altına almıştır.

Verilen bilgilere bakılarak;

- I. İtalya Uluslar arası barışı tehdit etmektedir.
- II. Türkiye doğu komşuları ile işbirliği içerisinde.
- III. Türkiye yayılcı bir politika izlemiştir.

yargılarından hangilerine ulaşılabilir?


- A) I ve II B) I ve III
C) II ve III D) I,II ve III

27. II. Dünya Savaşı'nın ardından uluslar arası alanda kendisine yer edinmek isteyen Türkiye'de Batılı devletlerin etkisi ile yeniden çok partili hayata geçiş gündeme geldi. Temmuz 1945'te iş adamı Nuri Demirağ başkanlığında Milli Kalkınma Partisi kuruldu. Bu arada Haziran ayında CHP içindeki muhalif milletvekillerinden Adnan Menderes, Celal Boyar, Refik Koraltan ve Fuad Köprülü CHP'nin Toprak Reformu Projesine muhalefet ederek, 7 Ocak 1946'da Demokrat Parti (DP) adıyla yeni bir parti kurdular.

Buna göre aşağıdakilerden hangisi söylenemez?

- A) Milli Kalkınma Partisi ilk muhalefet partisi olmuştur.
B) Farklı görüşler temsil edilme imkânı bulmuştur.
C) Dış gelişmeler Türk demokrasisini etkilemiştir.
D) Cumhuriyet rejimi güçlenmiştir.

28. Mustafa Kemal ilk görev yeri olan Şam'da Vatan ve Hürriyet Cemiyeti'ni kurdu. 31 Mart Olayı'nda Meşrutiyet'i koruyarak yenilikleri savundu. Trablusgarp Savaşı'nda yerli halkı İtalyanlara karşı örgütledi. Kurtuluş Savaşı'nda halkımıza önderlik ederek vatanımızın kurtarılmasını sağladı.



Bu bilgilerden yola çıkarak Mustafa Kemal'in kişilik özelliklerinden hangisine ulaşamaz?

- A) Liderlik B) İnkılapçılık
C) Teşkilatçılık D) Açık Sözlülük

29. Mondros Ateşkes Antlaşması'ndan hemen sonra İtilaf Devletleri'nin Anadolu'ya yönelik başlattığı işgallere karşı İstanbul Hükümeti'nin sessiz kalması üzerine Anadolu halkı kurmuş olduğu Kuvay-ı Milliye birlikleri ile kendi bölgelerini işgallere karşı savunmuştur.

Mondros Ateşkes Antlaşması sonrası durumla ilgili;

- I. İstanbul Hükümeti pasif bir politika izlemiştir.
- II. Kuvay-ı Milliye ulusal mücadele yürütmüştür.
- III. Ülke bütünlüğü tehdit altındadır.

yargılarından hangilerine ulaşılabilir?

- A) I ve II B) II ve III
C) I ve III D) I,II ve III

30. Sanayi İnkılabı gerçekleştirilemeyen Osmanlı Devleti'nde küçük atölyeler kapanmış, işsizlik artmış, dış ticarete denge bozulmuştur. Ucuz fabrika ürünleri Osmanlı pazarlarına hakim olmuştur. Daha sonra Avrupa ülkelerinden alınan dış borçlar da geri ödenememiştir. Alacaklarını tahsil etmek isteyen devletler tarafından Duyun-u Umumiye teşkilatı kurulmuş ve ekonomik bağımsızlık elden gitmiştir.

Sanayi İnkılabı'nın Osmanlı Devletine etkileri değerlendirildiğinde aşağıdaki sonuçlardan hangisine ulaşamaz?

- A) Ekonomik çöküş hızlanmıştır.
B) Egemen devlet anlayışı güçlenmiştir.
C) Ekonominin kontrolü Batılı ülkelere geçmiştir.
D) Ekonominin rekabet gücü azalmıştır.

"T.C. İnkılap Tarihi ve Atatürkçülük testi bitti
Din Kültürü ve Ahlak Bilgisi testinene geçiniz."



Din Kültürü ve Ahlak Bilgisi

31. Kader; Allah'ın ilmi ezeli ile gelecekte olacak olayları "Belirli bir Ölçü" çerçevesinde planlayıp, programlayıp bir düzen ve ahenk içerisinde takdir etmesine denir.

Yukardaki tanıma göre aşağıdakilerden hangisi kader kelimesinin kullanıldığı anlamlardan biri değildir.

- A) Tesadüf B) Ölçü
C) Plan D) Ahenk

32. Sabahleyin kahvaltısını yapmadan okula gelen Kübra, okul bahçesinde 10:30 yapılan kutlama töreninde açlık ve yorgunluğun vermiş olduğu etkiyle arkadaşlarının gözü önünde yere yığılı verdi.

Yukarıda anlatılan olay aşağıdaki kavramlardan hangisi ile ilişkilidir?

- A) Kaza B) Kader
C) İlahi Yasalar D) İrade

33. Yasin öğretmen, Din Kültürü ve Ahlak Bilgisi dersinde ilahi yasaları anlatırken "Gece de onlar için bir delildir. Gündüzü ondan çıkarırız, bir de bakarsın karanlık içinde kalmışlar. Güneş de kendi yörüngesinde akıp gitmektedir. Bu, mutlak güç sahibi, hakkıyla bilen Allah'ın takdir etmesidir." (Yasin, 37) ayetini örnek vermiştir.

Yasin hocanın örnek vermiş olduğu ayet aşağıdaki yasalardan hangisi ile ilgilidir?

- A) Biyolojik Yasalar B) Toplumsal Yasalar
C) Fiziksel Yasalar D) Kimyasal Yasalar

34. Trafik işaret lambalarına yaklaşmakta olan Eyup Bey, ışık tam yeşilden kırmızıya dönerken hızlıca geçebileceğini düşünmüş ancak tam geçiş esnasında ışık kırmızıya dönmüş ve Eyup Bey kırmızıda geçmiş çok geçmeden de kendini elim bir kazanın ortasında bulmuştur. Ölümden dönen Eyup Bey ne yapayım kaderim böyleymiş diyerek kendisini teselli etmiştir.

Yukardaki metne göre aşağıdakilerin hangisi Eyup Bey'in kader anlayışını ifade etmez?

- A) İnsan iradesine dayalı bir kader anlayışıdır.
B) Sorumluluğu kadere yükleyen bir anlayıştır.
C) Pasif bir kader anlayışıdır
D) Alın yazısına dayalı bir kader anlayışıdır.

35. "Onlar yeryüzünde gezip kendilerinden öncekilerin sonunun nasıl olduğuna bakmazlar mı?... (Fatır, 44) buyurarak bu konuda insanların ibret olmalarını istemektedir.

Ayette verilen mesaj aşağıdaki verilen ilahi yasalardan hangisiyle ilgilidir?

- A) Fiziksel Yasalar B) Toplumsal Yasalar
C) Biyolojik Yasalar D) Kimyasal Yasalar

36. LGS sınavına hazırlanmakta olan Meryem Sevde, disiplinli bir çalışma ile bütün derslerin konularını bitirmiş ve konuyla ilgili yeterli birçok soru çözdükten sonra sonuç için şöyle demiştir; "Ben elimden geleni yaptım bundan sonrası için Allah'a dayanıyor ve O'na güveniyorum." Demiştir.

Yukardaki metne göre Meryem Sevde'nin yapmış olduğu davranış hangi kavrama örnek oluşturur?

- A) İrade B) Kaza
C) Tevekkül D) Başarı



Din Kültürü ve Ahlak Bilgisi

37. Zekat ve sadaka mali (ekonomik) bir ibadet olup, toplumda yardımlaşma paylaşma ve kardeşlik duygularını artırır. Atalarımız, geçmişte bu ibadeti çok güzel bir şekilde yerine getirmişlerdir. Örneğin camii duvarına bırakılan sadaka taşları ve bakkallardan alınıp ödenen zimem defterleri bunların en güzel örnekleridir. Bu yöntemlerle ne sadaka veren alanı, ne de sadaka alan vereni tanıyordu.

Yukardaki metne göre sadaka ve zekatın hangi yönüne dikkat çekilmiştir?

- A) Zekat ve sadakalarımızı en yakınımıza vermeliyiz
- B) Zekat ve sadaka insanı cimrilikten korur
- C) Zekat ve sadaka toplumsal birlikteliği artırır.
- D) Zekat ve sadaka verilirken alan kişinin onuru incitilmemelidir.

38. "İnsanların mallarını ve haklarını eksiltmeyin. Yeryüzünde bozgunculuk yaparak karışıklık çıkarmayın." (Şuara,183).

Ayete göre İslam Dini hangi temel hakkı korumayı amaçlamıştır?

- A) Malın Korunması
- B) Neslin Korunması
- C) Aklın Korunması
- D) Dinin Korunması

39. Peygamberimiz (sas), Bedir, Uhud, Hendek savaşları ve Bedir savaşında esir alınan Müşriklerin durumuyla ilgili önemli konularda arkadaşları ile her zaman bilgi alışverişinde bulunmuştur.

Peygamberimizin yapmış olduğu bu davranış hangi konuya değer verdiğini gösterir?

- A) Takva
- B) Dürüstlük
- C) Adalet
- D) İstişare

40. Din Kültürü ve Ahlak Bilgisi dersinde, Ramazan ayında oruç tutmanın faziletinden bahseden Emine hoca, ayrıca zekat vermenin toplumsal birlikteliğe katkıları ile namaz kılmanın bireysel ve toplumsal faydaları üzerinde durmuştur.

Yukardaki örnek dikkate alındığında Emine Hoca K. Kerim'in hangi konusu üzerinde durmuştur?

- A) İnanç
- B) İbadet
- C) Kıssalar
- D) Ahlak

"Din Kültürü ve Ahlak Bilgisi testi bitti İngilizce testine geçiniz."

İngilizce

41.



According to the invitation card, which of the following is NOT CORRECT?

- A) It is a birthday party
- B) Derya is the sender of the invitation card.
- C) The party is at weekend.
- D) Tom, Tim and Peter will join the party.

42. I can't stand listening to opera.

In my opinion, it is really boring. I would rather listen to pop than it. I think it is enjoyable. I'm really keen on pop concerts because they are exciting and fun.



According to the text, which of the following is NOT CORRECT?

- A) Maria is into pop concerts.
- B) Maria thinks opera is unbearable.
- C) Maria prefers opera to pop music.
- D) Maria finds pop music enjoyable.

43.



Ingredients: 3 eggs, a glass of milk, salt and cheese.

Process: First, put some olive oil into a pan and heat it. Second, crack 3 eggs into a bowl and add some salt milk and cheese. Then, mix all the ingredients well. After that, pour the mixture into a hot pan. Finally, cook it about for 5 minutes and serve hot.

Before pouring the mixture into the hot pan, you should

- A) Mix all the ingredients well.
- B) Add some milk and oil.
- C) Cook it about for 5 minutes.
- D) Let it cool.

44. Sally: What do you have to do at school?

Jamie: What do you mean?

Sally: I mean.....?

Jamie: I have to come to school on time and I must listen to my teacher carefully.

Which of the following completes the conversation CORRECTLY?

- A) What are your responsibilities at home?
- B) Which rules do you like at school?
- C) What are your obligations at school?
- D) Why do you obey the school rules?

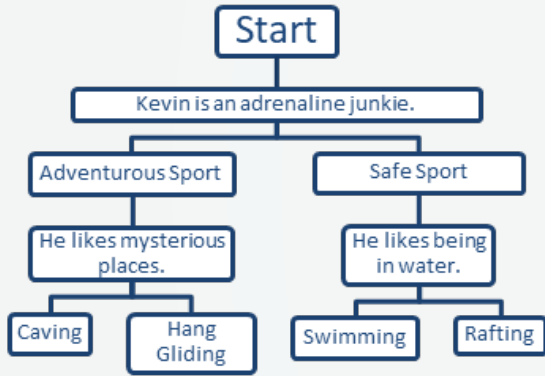
İngilizce

45. Daisy : I prefer face to face communication to talking on the phone.

Which picture shows the communication way that Daisy chooses?



46. Mark is playing a game. He should choose the correct moves and find Kevin's favourite activity.



Kevin's favourite activity is

- A) Caving B) Hangliding
C) Swimming D) Rafting

47.

Edward:?
Thomas: Usually my father.
Edward:?
Thomas: He pays the bill and does online shopping.
Edward:?
Thomas: Nearly four hours.

Which of the following questions Does Not Edward ask Thomas?

- A) Who uses the internet most in your family?
B) How often does your father use internet?
C) What does he do on the internet?
D) How many hours does he stay online?

Answer the questions 8-9 according to the text below.

Samsun is located in the North part of Turkey. With its natural beauties and recreational activities, Samsun is the one of the mostly-visited cities in the Black Sea Region. Summers are hot but not dry because it is located in the coast. Don't leave this city without visiting 'Kuş Cenneti' and 'Amazon Tepesi', eating 'Tirit' and drinking 'Şıra'.



48. Which question is NOT answered in the text?

- A) Where is Samsun located?
B) How is the climate there?
C) Are there any traditional meals in Samsun?
D) What is the best season to visit there?

49. Samsun.....

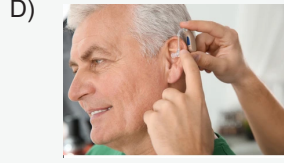

- A) has rainy springs and dry summers.
B) is located South part of Turkey.
C) has a lot of visitors in summer.
D) Has a traditional drink.

İngilizce

50. Sude is interested in inventors and their inventions. She is keen on current scientific achievement. She is studying on a walking stick to help sight-disabled people.



Which picture shows the people who are going to use this invention?



“Sözel bölüm bitti cevaplarınızı kontrol ediniz!”